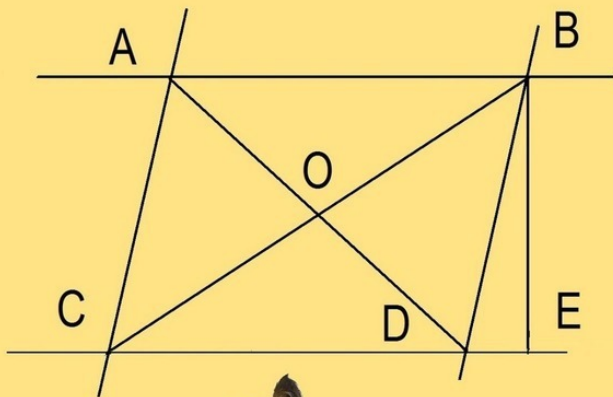


ГЕОМЕТРИЯ

ДЛЯ РОДИТЕЛЕЙ



Джеймс Уэллс

Джеймс Уэллс

Геометрия для родителей

http://www.litres.ru/pages/biblio_book/?art=41609307

ISBN 9785449642196

Аннотация

Если вы хотите помочь своему ребенку с домашним заданием по геометрии, эта небольшая книга поможет вам. Она охватывает геометрию плоскости и затрагивает начало тригонометрии. Вы найдете 70 иллюстраций и 25 задач с подробными решениями. Подарите своему ребенку радость учиться вместе с вами. Если вы ученик, эта книга поможет вам быстро обновить свои знания перед экзаменом.

Содержание

ПОСВЯЩЕНИЕ	5
Введение	6
Параллельные линии	9
Многоугольники	15
Треугольники	17
Высота треугольника	21
Биссектриса	22
Свойства средней линии треугольника	23
Медиана	25
Перпендикулярная биссектриса	27
Стороны треугольника	31
Равнобедренный треугольник	32
Равносторонние треугольники	35
Теорема Пифагора	37
Тригонометрические функции: синус, косинус, тангенс, котангенс	38
Конец ознакомительного фрагмента.	40

Геометрия для родителей

Джеймс Уэллс

*Copyright © 2019 Джеймс Уэллс
All rights reserved.*

© Джеймс Уэллс, 2019

ISBN 978-5-4496-4219-6

Создано в интеллектуальной издательской системе Ridero

ПОСВЯЩЕНИЕ

Я хочу посвятить свою книгу моей матери, которая в детстве мечтала стать математиком. К сожалению, она не закончила школу, потому что когда ей было 15 лет, Вторая мировая война помешала ей закончить свое образование. Ей пришлось начать работать, и у нее никогда не было возможности снова пойти в школу, но она приложила большие усилия, чтобы я и мои братья получили высшее образование. Я думаю, что она была бы счастлива узнать, что моя книга по геометрии посвящена ей.

Введение

Геометрия имеет дело с точками, линиями, углами и многоугольниками.

Прямая линия в геометрии – это линия без начала и конца.

Точка может быть началом бесконечной линии, и эта линия называется лучом. Луч имеет отправную точку, но не имеет конца.

Если прямая линия имеет две конечные точки (начало и конец), она называется отрезком. Смотрите рисунок 1.



Рисунок 1. Прямая, Луч, Отрезок

Когда две или более линии пересекаются друг с другом, они образуют острые и тупые углы. Если угол меньше 90 градусов, он называется острым. Если угол больше 90 градусов, он называется тупым.

Две пересекающиеся линии образуют четыре угла. Противоположные углы называются вертикальными углами. Углы, которые имеют одну общую сторону и находятся на одной линии, называются смежными углами. Смотрите рисунок 2.

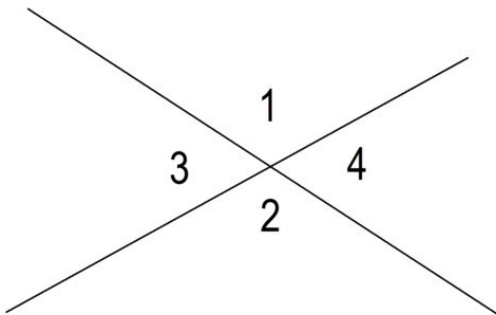


Рисунок 2. Вертикальные углы 1 и 2 равны.

Смежные углы 1 и 4 вместе образуют прямую линию и их сумма равна 180 градусов. Углы 1 и 2 на рисунке 2 тупые. Углы 3 и 4 острые.

Если угол составляет 90 градусов, он называется прямым углом. Смотрите рисунок 3.

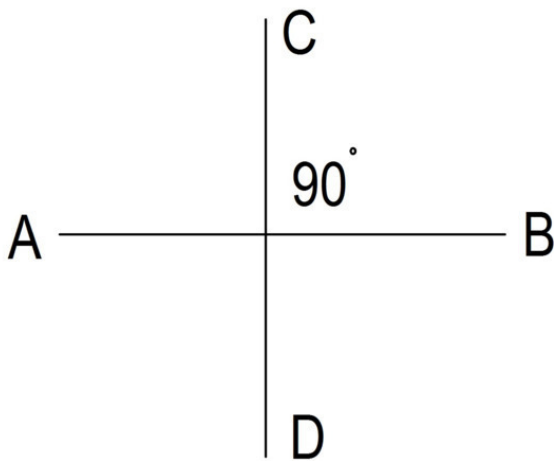


Рисунок 3. Прямой угол

Параллельные линии

Если две линии никогда не пересекаются друг с другом, они параллельны. Вы можете увидеть символ \parallel , который используется для обозначения параллельных линий.

Согласно теореме Фреда, если две параллельные линии пересекают третью линию, образуются два вида углов: острые и тупые углы. Все острые углы равны и все тупые углы равны. Смежные углы составляют 180 градусов. Смотрите рисунок 4.

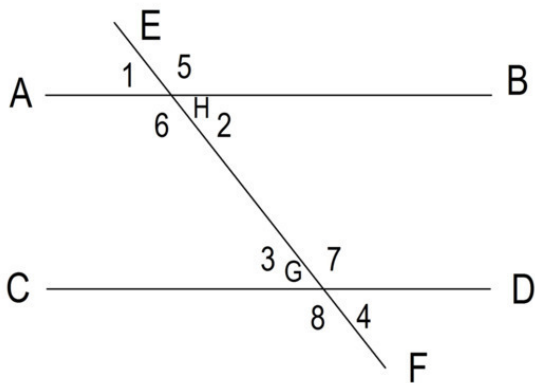


Figure 4. $AB \parallel CD$ Угол $1 = 2 = 3 = 4$. Угол $5 = 6 = 7 = 8$

H – точка пересечения прямых AB и EF .

Точно так же G является точкой пересечения линий CD и EF .

Углы 1 и 5 являются смежными и составляют 180 градусов.

Смежные углы: 1 и 6; 2 и 5; 6 и 2; 3 и 7; 3 и 8; 7 и 4; 8 и 4.

В геометрии углы обозначаются тремя буквами, начиная с буквы, обозначающей любую сторону угла. Угол 1 можно обозначить как AHE или EHA .

Угол 5 можно обозначить как ENB или BNE . Угол 2 можно обозначить как BHG или GNB . Угол 6 можно обозначить как ANG или GNA . Угол 8 может быть обозначен как CGF или FGC и так далее.

Есть три условия, которые доказывают, что две линии параллельны.

Первое условие: если две линии пересекаются третьей линией и два внутренних угла, смежных с третьей линией, составляют в целом 180 градусов, то линии параллельны. См. Рисунок 5.

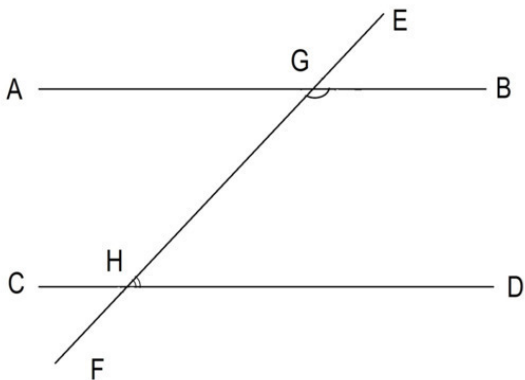


Рисунок 5. Если угол $BGN + DHG = 180$, то $AB \parallel CD$

Второе условие: если две линии пересекаются третьей и соответствующие углы равны, то эти линии параллельны. Смотрите рисунок 6.

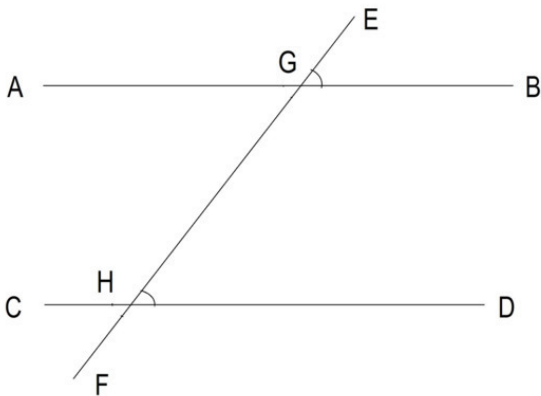


Рисунок 6. Если угол $BGE = DHG$, то $AB \parallel CD$

Третье условие: если две линии пересекают третью линию и углы, лежащие поперек, равны, то эти две линии параллельны. См. Рисунок 7

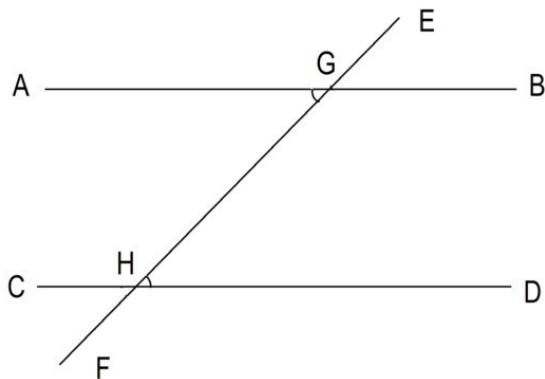


Рисунок 7. Если угол $AGH = DHG$, то $AB \parallel CD$

Если две линии пересекаются и образуют угол 90 градусов, они перпендикулярны друг другу.

В этом случае все четыре угла равны, и каждый угол равен 90 градусам. Символ \perp используется для обозначения перпендикулярности линий.

$AB \perp CD$. Смотрите рисунок 8.

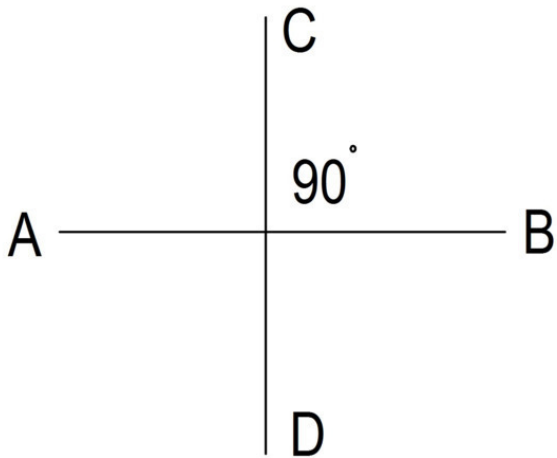


Рисунок 8. Перпендикулярные линии

Многоугольники

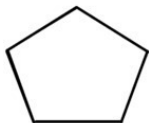
Многоугольники – это двумерные фигуры, состоящие из переменного числа отрезков. Например, многоугольники, состоящие из 3 отрезков, называются треугольниками. Многоугольники, состоящие из 4 отрезков, называются четырехугольниками. Многоугольники, состоящие из пяти отрезков, называются пятиугольниками. Многоугольники, состоящие из шести отрезков, называются шестиугольниками. Если все стороны многоугольника равны, то многоугольник называется правильным многоугольником: равносторонний треугольник, правильный четырехугольник, правильный пятиугольник и правильный шестиугольник. Смотрите рисунок 9.



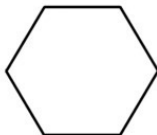
Равносторонний
Треугольник



Квадрат



Правильный
Пятиугольник



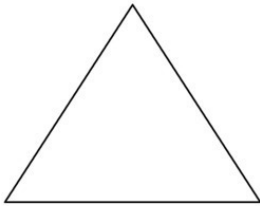
Правильный
Шестиугольник

Figure 9. Правильные многоугольники.

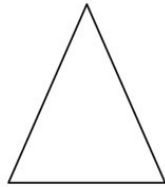
Треугольники

Треугольники имеют три стороны и три угла.

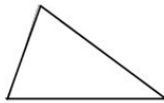
Есть три типа треугольников. Треугольник, имеющий три стороны равной длины, называется равносторонним треугольником. Треугольник, имеющий две стороны равной длины, называется равнобедренным треугольником. Треугольник, имеющий три неравные стороны, называется разносторонним треугольником. Смотрите рисунок 10.



Равносторонний
треугольник



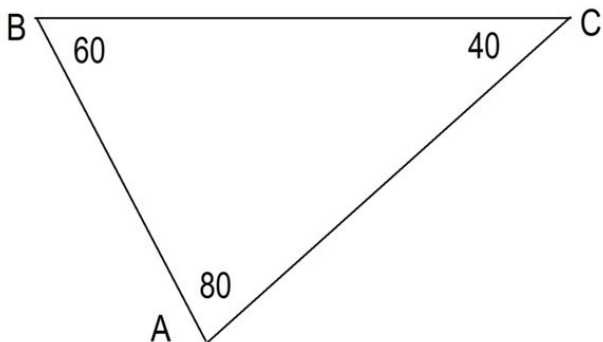
Равнобедренный
треугольник



Разносторонний
треугольник

Рисунок 10. Различные типы треугольников.

Сумма внутренних углов треугольника равна 180 градусам. Смотрите рисунок 11.



$$40 + 60 + 80 = 180$$

Рисунок 11.

Если треугольник имеет все три угла меньше 90 градусов, он называется острым или остроугольным треугольником.

Если треугольник имеет один угол, равный 90 градусам, он называется прямоугольным или прямым треугольником.

Если у треугольника один угол больше 90 градусов, он называется тупоугольным треугольником. Смотрите рисунок 12.

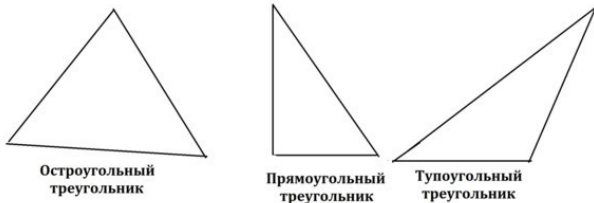


Рисунок 12. Различные треугольники.

Если вы хотите дать название углу, вы обозначаете его тремя буквами, начиная с буквы, обозначающей любую сторону угла. Например, вы можете обозначить угол ABC как CBA. В любом случае это правильно, хотя первый вариант предпочтительней.

Угол, образованный одной стороной треугольника и продолжением смежной стороны того же треугольника называется внешним углом. Угол BAD это внешний угол треугольника. Угол BAC является смежным по отношению к углу BAD. Внешний угол BAD равен сумме двух внутренних углов треугольника не смежных с ним. См. Рисунок 13.

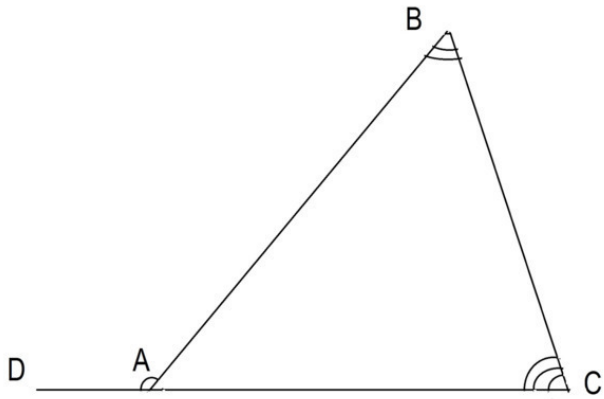


Figure 13. $\text{BAD} = \text{ABC} + \text{ACB}$

Высота треугольника

Если линия, проведенная из вершины, перпендикулярна противоположной стороне треугольника, эта линия называется высотой. Высоты, проведенные из вершины каждого угла, пересекаются в одной точке. Эта точка называется ортоцентром.

Сторона треугольника, на которую опущена высота, называется основанием треугольника. Площадь треугольника равна половине произведения его основания и высоты.

Смотрите рисунок 14.

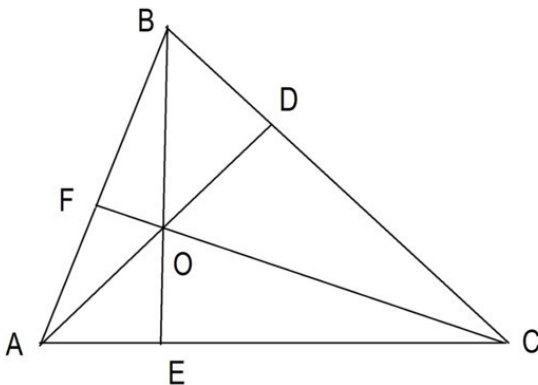


Рисунок 14. Площадь = $AC * BE / 2$ $AD \perp BC$, $BE \perp AC$, $CF \perp AB$

Биссектриса

Линия, проведенная из вершины треугольника, которая делит угол на два равных угла, называется биссектрисой. Биссектрисы треугольника пересекаются. Точка их пересечения равноудалена от всех сторон треугольника и является центром вписанной окружности. Смотрите рисунок 15.

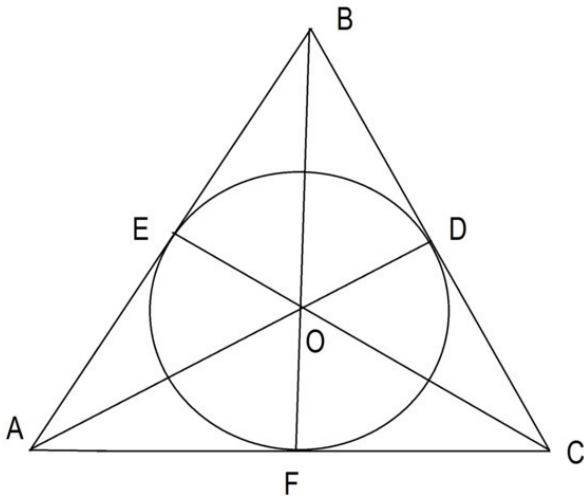


Рисунок 15. Центр треугольника с вписанным кругом.

Свойства средней линии треугольника

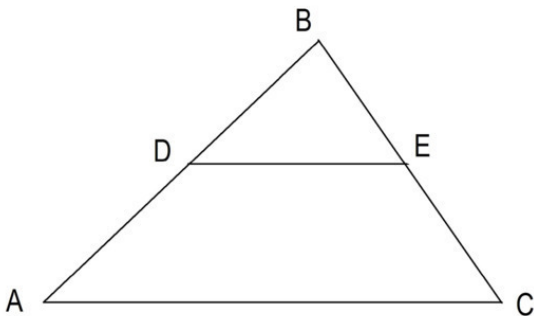


Рисунок 16. Линия соединяет середины двух сторон треугольника.

$$AD = DB \text{ и } BE = EC, DE \parallel AC$$

Докажем, что отрезок DE, соединяющий середины двух сторон треугольника, параллелен третьей стороне AC и что $DE = AC / 2$. Продолжите линию DE и начертите линию EF, равную DE. Смотрите рисунок 17.

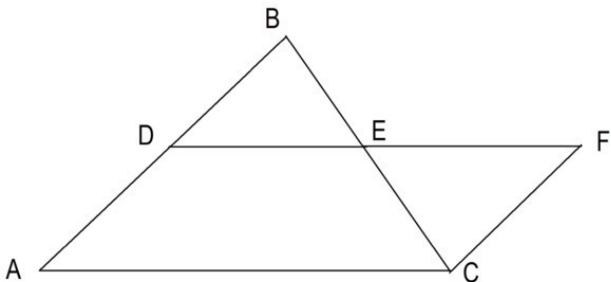


Рисунок 17. $AD = DB$, $BE = EC$, $DE = EF$

Тогда треугольник $DBE =$ треугольник EFC , потому что $BE = EC$, $DE = EF$ и угол $BED =$ углу CEF как вертикальные углы. Поскольку эти треугольники равны, их стороны и углы равны.

$BD = CF$ и угол $ECF =$ углу DBE . Если $BD = AD$ и $BD = CF$, то $AD = CF$. Поскольку угол $DBE =$ углу ECF , то $BD \parallel CF$, потому что DBE и ECF являются противоположными внутренними углами. Если $BD \parallel CF$, то $AD \parallel CF$. Так как $AD \parallel CF$ и $AD = CF$, то $ADFC$ – параллелограмм, и это означает, что $DF = AC$ и $DF \parallel AC$.

Поскольку $DE = EF$ (дано) и $DE + EF = DF = AC$, тогда $DE = AC / 2$.

Медиана

Линия, проведенная из вершины, которая делит противоположную сторону треугольника на два равных отрезка, называется медианой. Рисунок 18

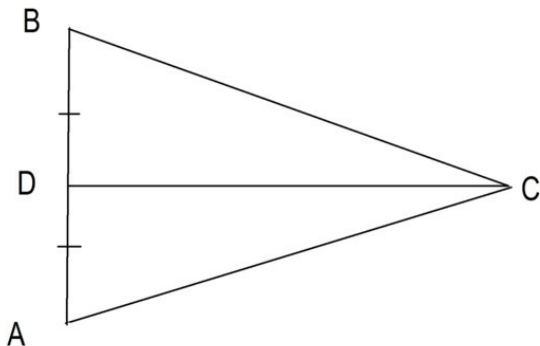


Рисунок 18. Медиана CD.

Медианы треугольника пересекаются. Точка пересечения медиан называется центроидом. Центроид – это геометрический центр треугольника. Если вы вырежете треугольник из картона, найдите его центр тяжести и поместите треугольник на кончик карандаша так, чтобы наконечник находился в центре тяжести треугольника, треугольник будет идеально

сбалансирован. Смотрите рисунок 19.

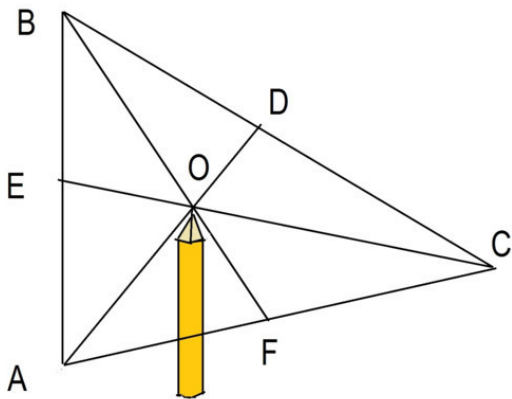


Рисунок 19. Центриод – геометрический центр треугольника.

AD , CE и BF являются медианами.

Перпендикулярная биссектриса

Перпендикулярная линия, проведенная от середины стороны треугольника, называется перпендикулярной биссектрисой. Смотрите рисунок 20.

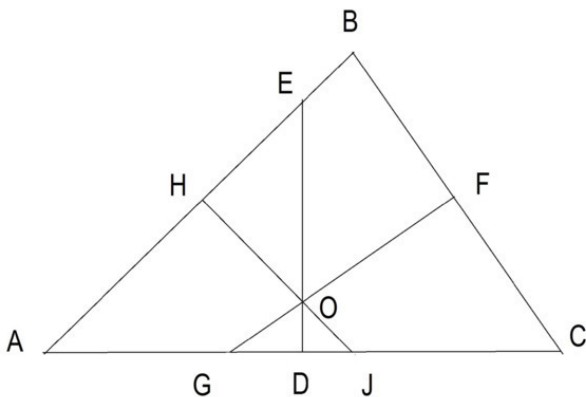


Рисунок 20. $ED \perp AC$; $JH \perp AB$; $GF \perp BC$; $AD = DC$; $AH = HB$; $BF = FC$;

Перпендикулярные биссектрисы сторон треугольника пересекаются. Точка, в которой пересекаются перпендикулярные биссектрисы, является центром описанной окружности. Смотрите рисунок 21.

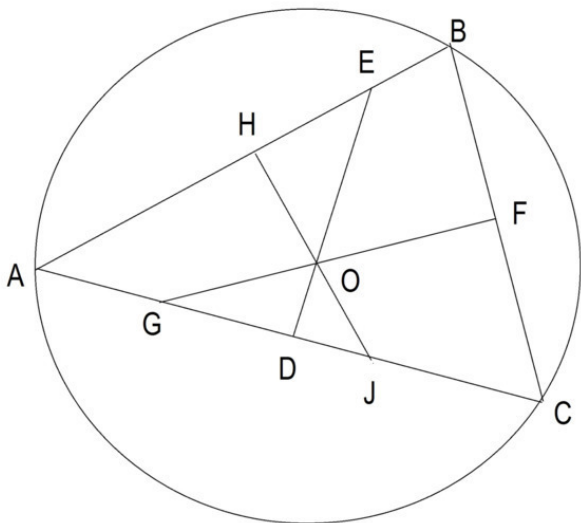


Рисунок 21. O – центр описанной окружности.

Точка, лежащая на перпендикулярной биссектрисе, одинаково удалена от вершин треугольника, образованных стороной, перпендикулярной к биссектрисе. Смотрите рисунок 22.

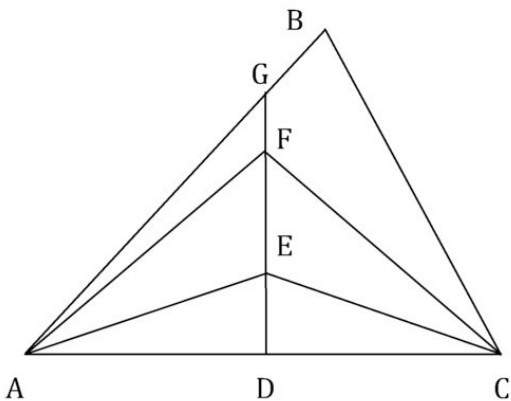


Рисунок 22. Перпендикулярная биссектриса DG .

Если DG – перпендикулярная биссектриса стороны AC , то $AE = EC$ и $AF = FC$.

В любом треугольнике ортоцентр O (точка пересечения высот треугольника), центр описанной окружности C (точка пересечения перпендикулярных биссектрис) и центроид I (точка пересечения медиан) лежат на одной прямой. Эта прямая называется прямой Эйлера в честь швейцарского математика и физика Леонарда Эйлера. Расстояние от ортоцентра O до центроида I вдвое больше расстояния от центроида I до центра описанной окружности C . См. Рисунок 23.

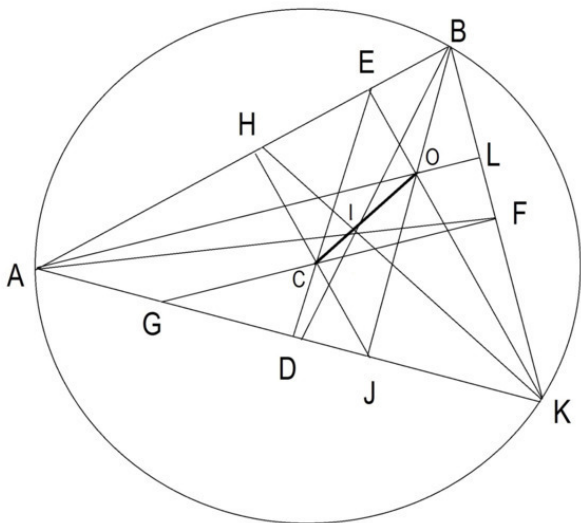


Рисунок 23. Линия Эйлера. (CIO). $IO = 2IC$.

GF , JH , ED – перпендикулярные биссектрисы. Точка C – это центр окружности.

AI , BI , KI – это медианы. Точка I это центроид. AL , BJ и KE являются перпендикулярами. Точка O является ортоцентром.

Стороны треугольника

Сумма длин любых двух сторон треугольника должна быть больше, чем третья сторона. Разница в длине любых двух сторон треугольника должна быть меньше, чем у третьей стороны. Смотрите рисунок 24

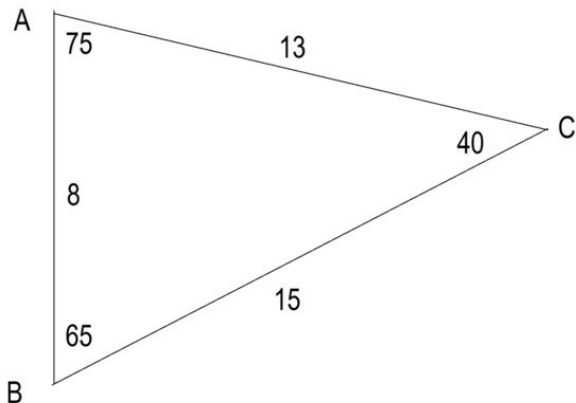


Рисунок 24. Длина сторон треугольника. $8 > 15 - 75$; $15 < 8 + 75$

Равнобедренный треугольник

Треугольник с двумя равными сторонами называется равнобедренным треугольником.

Равнобедренный треугольник имеет много интересных свойств и особенностей. Смотрите рисунок 25.

1. Если две стороны треугольника AB и BC равны, то два угла, которые лежат напротив равных линий, равны. Угол $\angle BAD = \angle BCD$.

2. Если вы проведете линию от угла между двумя равными сторонами к средней точке третьей стороны, эта линия будет биссектрисой угла.

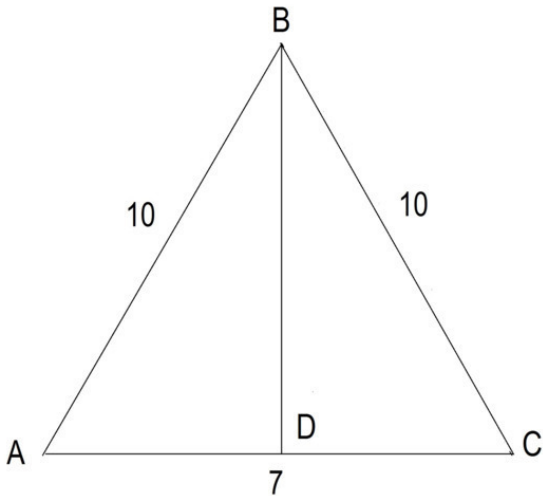


Рисунок 25. $AB = BC$.

Линия BD является биссектрисой. Она делит угол ABC на 2 равных угла ABD и DBC .

3. Биссектриса, проведенная от вершины треугольника между его равными сторонами, перпендикулярна третьей линии AC , а угол ADB и угол CDB являются прямыми и равными 90 градусам.

Биссектриса, проведенная от вершины угла, делит его пополам.

$$AD = DC.$$

Два полученных треугольника также равны.

Треугольник $ABD =$ Треугольник $DBC.$

Равносторонние треугольники

Если все три стороны треугольника равны, такой треугольник называется равносторонним треугольником.

То, что верно для равнобедренного треугольника, верно и для равностороннего треугольника.

Кроме того, все три угла равностороннего треугольника равны 60 градусам. Смотрите рисунок 26.

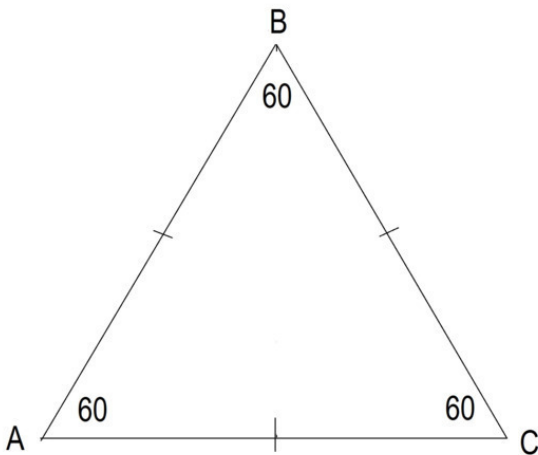


Рисунок 26. Равносторонний треугольник. Углы А, В и С = 60 градусов.

$$AB = BC = AC$$

Биссектрисы, опущенные от каждого угла равностороннего треугольника, одновременно являются высотами и медианами. Медиана, высота или биссектриса делят равносторонний треугольник на два равных треугольника с углами 30, 60 и 90 градусов. Смотрите рисунок 27.

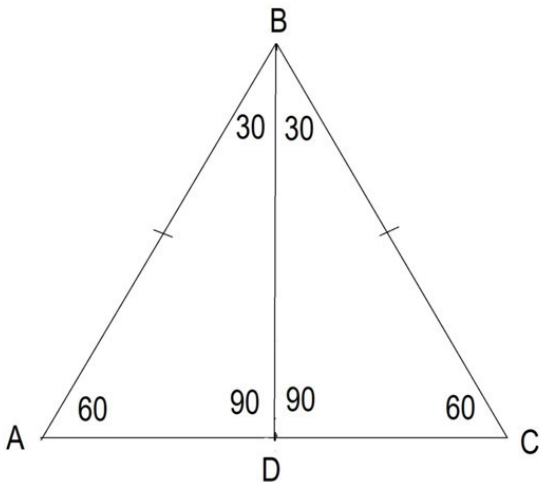


Рисунок 27. Равносторонний треугольник ABC .

BD – это биссектриса, высота и медиана. Треугольники ABD и BDC равны.

Теорема Пифагора

В прямоугольных треугольниках квадрат гипотенузы BC равен сумме квадратов катетов AB и AC . Смотрите рисунок 28.

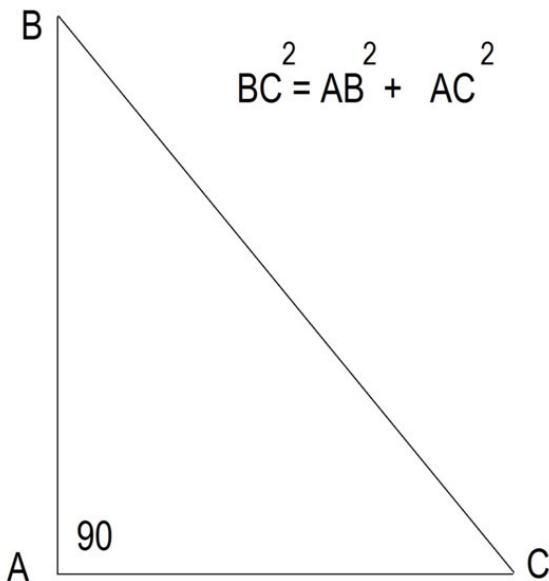


Рисунок 28. Теорема Пифагора

Тригонометрические функции: синус, косинус, тангенс, котангенс

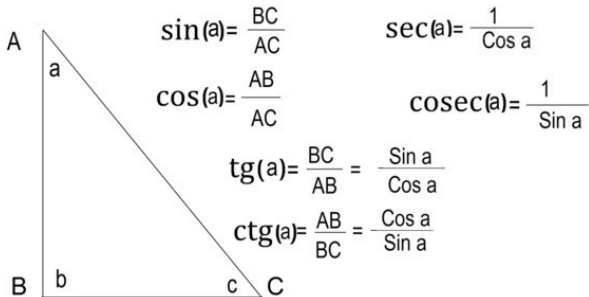


Рисунок 29. Тригонометрические функции.

Синус угла A – это отношение противоположной стороны к гипотенузе.

Косинус угла A – это отношение прилежащей стороны к гипотенузе.

Тангенс угла A является отношением противоположной стороны к прилежащей стороне.

Котангенс угла A – это отношение прилежащей стороны к противоположной стороне.

Закон косинусов показывает соотношение сторон a , b , c любого треугольника и косинуса угла C между сторонами a и b :

$$c^2 = a^2 + b^2 - 2ab \cdot \cos(C)$$

Конец ознакомительного фрагмента.

Текст предоставлен ООО «ЛитРес».

Прочитайте эту книгу целиком, [купив полную легальную версию](#) на ЛитРес.

Безопасно оплатить книгу можно банковской картой Visa, MasterCard, Maestro, со счета мобильного телефона, с платежного терминала, в салоне МТС или Связной, через PayPal, WebMoney, Яндекс.Деньги, QIWI Кошелек, бонусными картами или другим удобным Вам способом.